

# ESTRUCTURAS 3

REF.  
P00

PRACTICA

# PARCIAL MARZO

APELLIDOS

NOMBRE

GRUPO

FECHA

26-03-01

CALIFICACION

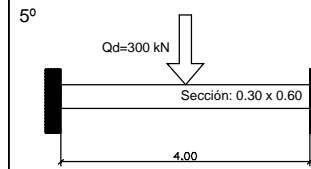
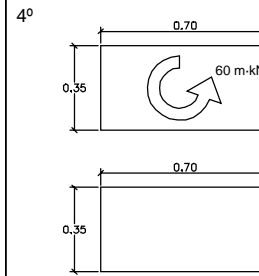
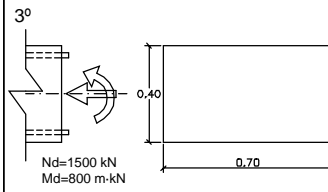
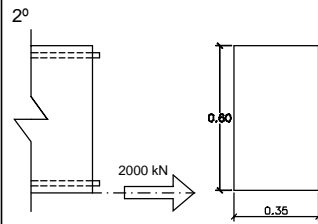
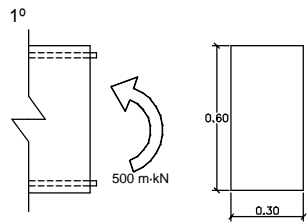
DATOS PARA TODOS LOS EJERCICIOS: RECUBRIMIENTO MECÁNICO= 4 CM. HA-25/P/15/lb. B 400 S.

SE PIDE: CALCULAR Y ARMAR LAS SIGUIENTES SECCIONES, SUPUESTOS LOS ESFUERZOS MAYORADOS.  
DIBUJAR LAS ARMADURAS EN CADA SECCIÓN.


CALCULAR Y DIBUJAR EL ARMADO A TORSIÓN

CALCULAR Y DIBUJAR EL ARMADO A CORTANTE

CALCULAR LA FLECHA INSTANTÁNEA, DIFERIDA Y ACTIVA



Arm. long. superior: 8Ø20  
Arm. long. inferior: 8Ø20



Dibujar aquí el armado

