

ESTRUCTURAS III

REF.
1pareIII2003

PRACTICA 1er parcial. Secciones.

APELLIDOS

NOMBRE

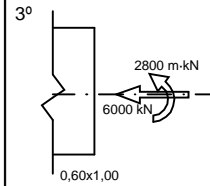
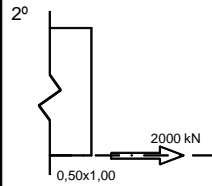
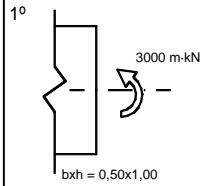
GRUPO

FECHA

CALIFICACION

DATOS PARA TODOS LOS EJERCICIOS: RECUBRIMIENTO MECÁNICO= 30 mm. HA-25/P/15/lb. B 400 S. LOS ESFUERZOS ESTÁN MAYORADOS

CALCULAR Y ARMAR LAS SIGUIENTES SECCIONES, DIBUJANDO LAS ARMADURAS DE CADA SECCIÓN. DIBUJAR, EN CADA CASO, LOS DIAGRAMAS DE TENSIONES Y DE DEFORMACIONES.



4º Dada la viga de la figura, cuyo armado longitudinal se indica, calcular y dibujar el armado a cortante. (Cargas mayoradas).

